

### Fábrica de miel

Tres abejas están fabricando miel y quieren saber cuál de las tres ha fabricado más. Para eso, cada una puso la miel producida en un vaso.

Observemos las ilustraciones y escribamos la respuesta en fracciones, luego comparemos para ver quién fabricó más miel.

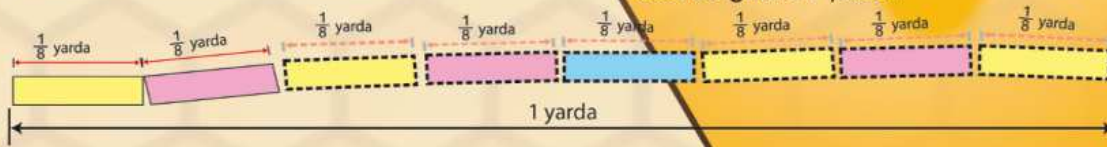


### JUNTOS en familia



### Midamos con la yarda

- 1) Cortemos 1 yarda de cinta blanca (lana, pita de amarre o similares).
- 2) Partamos la yarda en 8 partes iguales, para que cada parte mida  $\frac{1}{8}$  yarda.
- 3) Coloreemos cada parte de la cinta con un color diferente, utilizando tres colores (ver ilustración como ejemplo).
- 4) Juntemos cada parte según el color que tiene cada una.
- 5) Contemos cuántas partes de cada color hay. Si hay 3 partes de  $\frac{1}{8}$  yarda, en total hay  $\frac{3}{8}$  yarda. Ahora comprobemos si en total, hay  $\frac{8}{8}$  yarda, la cuál es igual a 1 yarda.



### JUNTOS en la escuela

### JUNTOS en la comunidad

### Vasos con leche

En la tienda de la comunidad, venden leche por 1 litro.


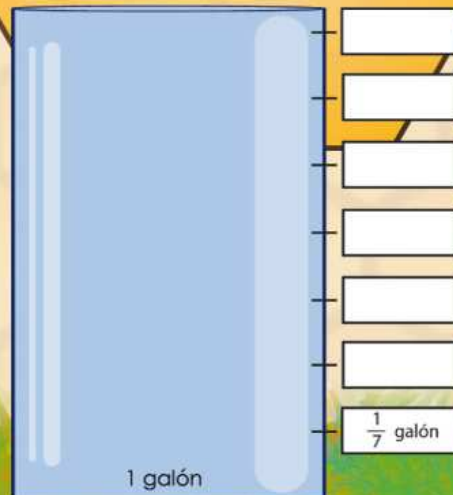
Si compramos 1 litro y lo servimos en 4 vasos a modo de que cada vaso tenga la misma cantidad, ¿qué cantidad de leche cupo en cada vaso?



### JUNTOS Construimos

### Un galón con deliciosa miel

- 1) Recortemos las líneas punteadas que aparecen abajo al lado derecho de esta hoja, hasta obtener 7 tiritas de  $\frac{1}{7}$  galón de miel.
- 2) Peguemos una a una de abajo hacia arriba en el recipiente de la imagen de 1 galón del lado izquierdo.
- 3) A la vez que pegamos cada tirita de  $\frac{1}{7}$  galón escribamos en la celda en blanco del lado derecho del recipiente, cuántas fracciones de galón hemos llenado con miel.



Competencia a desarrollar:

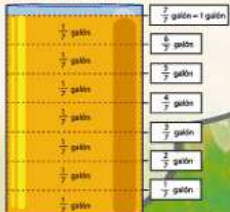
Aplica conocimientos, experiencias de aritmética básica en la interacción con su entorno familiar, escolar y comunitaria.

(Tomado del CNB de Tercer Grado, Nivel Primario)

### Juntos en la familia

En el caso del ejemplo, en total hay  $\frac{4}{8}$  yarda de color amarillo,  $\frac{3}{8}$  yarda de color rosado y  $\frac{1}{8}$  yarda de color celeste.

### Juntos construimos



### Juntos en la escuela

Doña Panalita fabricó más miel porque:

Mielin fabricó un  $\frac{1}{5}$  vaso de miel.

Doña Panalita fabricó  $\frac{4}{5}$  vaso de miel.

Dulcita fabricó  $\frac{3}{5}$  vaso de miel.

### Juntos en la comunidad

A cada vaso le cupo  $\frac{1}{4}$  litro de leche.

